



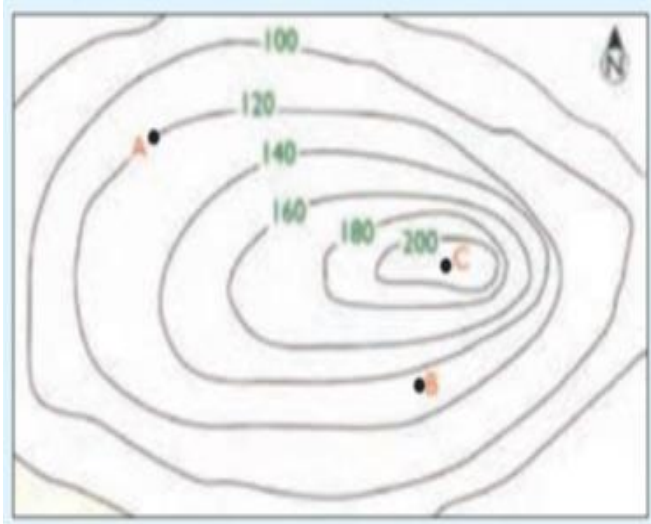


نام و نام خانوادگی:	با سمه تعالی	تاریخ آزمون:
رشته: علوم انسانی پایه: پازدهم	آموزش و رورش ناحیه ۴ مشهد	مدت آزمون: ۷۵ دقیقه
طراح سوال: اعظم فرتوت	آموزشگاه الزهرا (س)	ساعت آزمون: ۸ صبح
تعداد صفحه: ۳ صفحه	سال تحصیلی: ۱۴۰۲-۱۴۰۳	محل مهر آموزشگاه
تعداد سوالات: ۲۰	آزمون: جغرافیا ۲	نمره:
ردیف	سوالات	بارم
۱	عبارات درست و نادرست را مشخص و جملات نادرست را اصلاح کنید. الف: صنایع "های تک" با فعالیت اقتصادی بخش اول ارتباط دارد. ب: جغرافیای سیاسی، علم مطالعه کنش های متقابل جغرافیای طبیعی و سیاست است. ج: نظام تک ساخت از اروپا به دیگر نقاط جهان راه یافته و انگلستان از پیشگامان این الگوست. د: عوامل جغرافیایی مهم ترین عامل تولید قدرت ملی است.	۱/۷۵
۲	در جای خالی کلمات مناسب بنویسید. الف: کشور های پیرامون عمدتاً در قاره های.....،..... و..... واقع اند. ب: منظور از مرکز، کانون های سلطه بر جهان است. ج: به بخشی از سطح زمین که تحت مدیریت سیاسی یا فرمانروایی یک قدرت سیاسی باشد..... گفته می شود.	۱/۲۵
۳	گزینه مناسب را انتخاب نمایید. الف: کدام یک از موارد زیر از اهداف و برنامه های مهم همه کشورها محسوب می شود؟ (۱) فعالیت اقتصادی (۲) فعالیت صنعتی (۳) امنیت غذایی (۴) تولیدات کشاورزی ب: در کدام یک از کشورها منابع در جهت توسعه صنایع قرار گرفته است؟ (۱) چین - ژاپن (۲) ایران - ترکیه (۳) چین - برزیل (۴) برزیل - مکزیک ج: کدام گزینه از عوامل موثر در قدرت ملی نیست؟ (۱) عوامل فرهنگی، محلی، جغرافیایی (۲) عوامل فرهنگی، سیاسی، علمی (۳) عوامل اجتماعی، اقتصادی، نظامی (۴) عوامل فرهنگی، بین المللی، فضایی د: کدام مورد اشتباه می باشد؟ (۱) نقش قدرت دریایی در کنترل و محاصره خشکی ها از دیدگاه ماهان است. (۲) آلفرد ماهان ۶ شرط را برای تبدیل یک کشور به قدرت دریایی پیشنهاد کرده بود. (۳) انگلستان به دلیل قدرت دریایی بر رقیبان خود پیروز شد. (۴) تاثیر فضای حیاتی در شکل گیری قدرت از دید گاههای مکیندر است.	۱
۴	زیر پاسخ مناسب داخل کمانک خط بکشید. الف: جوهره ژئوپلیتیک را (سیاست - قدرت) تشکیل می دهد. ب: بارش های بهاری بیشتر در بارندگی های (کوهستانی - همرفتی) ایجاد می شود. ج: در نظام سیاسی (تک ساخت- فدرال) اختیارات محلی محدود و نظام قانونگذاری متمرکز است.	۰/۷۵
۵	اصطلاح کشت و صنعت را تعریف نمایید.	۱
۶	پلانتیشن ها در کدام نواحی پراکنده شده اند؟	۱

۷	با توجه به طبقه بندی آب و هوایی کوپن، جدول زیر را تکمیل کنید.	۱										
	<table><tr><th>علامت آب و هوا</th><th>نام آب و هوا</th><th>دما</th><th>بارش</th><th>پوشش گیاهی</th></tr><tr><td>الف</td><td>ب</td><td>هیچ ماهی سردتر از ۱۸ درجه سانتیگراد نیست.</td><td>ج</td><td>د</td></tr></table>	علامت آب و هوا	نام آب و هوا	دما	بارش	پوشش گیاهی	الف	ب	هیچ ماهی سردتر از ۱۸ درجه سانتیگراد نیست.	ج	د	
علامت آب و هوا	نام آب و هوا	دما	بارش	پوشش گیاهی								
الف	ب	هیچ ماهی سردتر از ۱۸ درجه سانتیگراد نیست.	ج	د								
۸	اقداماتی که کشورها به منظور کاهش اثرات منفی تجارت خارجی بر اقتصادشان انجام می دهند را بنویسید. ۳ مورد	۱/۵										
۹	شاخص های توسعه انسانی را نام ببرید و کدام یک جنبه ی اقتصادی دارد؟	۱										
۱۰	ناحیه ی سیاسی فرا ملی (منطقه ای) چیست؟ با مثال.	۰/۷۵										
۱۱	هر یک از مثال های زیر، تاثیر کدام ایدئولوژی ها را نشان می دهد؟ الف: احداث پارک بانوان ب: دو قطبی شدن شهرها به دو منطقه فقیر نشین و غنی نشین	۰/۵										
۱۲	منظور از کانون ناحیه ی سیاسی چیست؟	۱										
۱۳	دو مورد از مهم ترین عوامل پیدایش و بقای یک کشور را نام ببرید.	۱										
۱۴	نوع مرز کشورهای زیر را از نظر شکل گیری و پیدایش مشخص کنید. الف: مرز کانادا و آلاسکا ب: کره شمالی و جنوبی ج: مرز هند و پاکستان	۰/۷۵										
۱۵	کدام یک از شکل های زیر برای تعیین خط مرزی رودخانه صحیح تر است؟ چرا؟ <div><div>الف: خط منصف</div><div></div><div>ب: خط تالوگ</div><div></div></div>	۱										
۱۶	"دیدگاه راتزل" را در ارتباط با موقعیت جغرافیایی و تاثیرات آن بنویسید..	۱										
۱۷	شکل سرزمینی هر یک از کشورهای زیر را مشخص کنید. الف: تایلند ب: اندونزی ج: فرانسه د: نروژ	۱										
۱۸	<div></div> <p>الف: نام پدیده را ذکر کنید.</p>	۱										

	ب: ۲ مورد از ویژگیهای آن را بنویسید.	
۱۹	<p>الف: فشار هوا را بر اساس چه واحدی اندازه گیری می کنند؟</p> <p>ب: شکل شماره یک مربوط به کدام تصویر می باشد؟ و چه نام دارد؟</p> <div style="display: flex; justify-content: space-around; align-items: center;"> <div style="text-align: center;">  <p>تصویر ب</p> </div> <div style="text-align: center;">  <p>تصویر الف</p> </div> </div> <div style="text-align: center; margin-top: 20px;">  <p>شکل شماره یک</p> </div>	
۲۰	<p>با توجه به شکل مقابل پاسخ دهید.</p> <div style="text-align: center;">  </div> <p>الف: نقطه C چه چیز را نشان می دهد؟</p> <p>ب: فاصله منحنی میزان ها چند متر است؟</p> <p>ارتفاع نقطه A چند متر می باشد؟</p>	۰/۷۵
	<p>جمع بارم آرزویم خنده بر لب و موفقیت شما عزیزان است.</p>	۲۰ نمره