






بسمه تعالی

جشنواره طراحی سوال شبه نهایی - سال تحصیلی ۱۴۰۳-۱۴۰۲

سوالات آزمون درس: هویت اجتماعی		رشته: ریاضی و تجربی	ساعت شروع: ۹ صبح	مدت آزمون: ۷۵ دقیقه
نام و نام خانوادگی :		پایه: دوازدهم	تاریخ آزمون: ۱۴۰۳/۰۳/۰۹	تعداد صفحه: ۳
نام و نام خانوادگی طراح: یعقوب درستکار احمدی		شماره پرسنلی: ۳۱۴۹۰۰۲۹	اداره کل آموزش متوسطه اول و دوم نظری خراسان رضوی اداره آموزش و پرورش شهرستان تربت جام دبیرستان نمونه دولتی ابن سینا	
ردیف	سوالات			نمره

۵	هریک از تعاریف (ستون اول) به کدام یک از مفاهیم (ستون دوم) اشاره دارد. (امور اضافی است)	۱												
<table><tr><th>تعاریف</th><th>مفاهیم</th></tr><tr><td>الف) بخش هایی از فرهنگ که از نظر علمی قابل دفاع نباشد..</td><td>۱- ضد فرهنگ</td></tr><tr><td>ب) بخشی از فرهنگ که مردم یک جامعه در آن اشتراک دارند.</td><td>۲- فرهنگ واقعی</td></tr><tr><td>پ) خرده فرهنگ نا سازگار با فرهنگ عمومی</td><td>۳- فرهنگ باطل</td></tr><tr><td>ت) آن بخش از فرهنگ که مردم به آن عمل می کنند.</td><td>۴- فرهنگ عمومی</td></tr><tr><td></td><td>۵- فرهنگ حق</td></tr></table>			تعاریف	مفاهیم	الف) بخش هایی از فرهنگ که از نظر علمی قابل دفاع نباشد..	۱- ضد فرهنگ	ب) بخشی از فرهنگ که مردم یک جامعه در آن اشتراک دارند.	۲- فرهنگ واقعی	پ) خرده فرهنگ نا سازگار با فرهنگ عمومی	۳- فرهنگ باطل	ت) آن بخش از فرهنگ که مردم به آن عمل می کنند.	۴- فرهنگ عمومی		۵- فرهنگ حق
تعاریف	مفاهیم													
الف) بخش هایی از فرهنگ که از نظر علمی قابل دفاع نباشد..	۱- ضد فرهنگ													
ب) بخشی از فرهنگ که مردم یک جامعه در آن اشتراک دارند.	۲- فرهنگ واقعی													
پ) خرده فرهنگ نا سازگار با فرهنگ عمومی	۳- فرهنگ باطل													
ت) آن بخش از فرهنگ که مردم به آن عمل می کنند.	۴- فرهنگ عمومی													
	۵- فرهنگ حق													
۶	برای هریک از موارد زیر ،یک <u>کنش اجتماعی</u> بنویسید. ۱-۶- مهمان:..... ۲-۶- معلم:..... ۳-۶- فرزند:.....	۰/۷۵												
۷	برای هریک از کنش های اجتماعی زیر،یک <u>پیامد غیر ارادی</u> بنویسید. <div> ۳-۷</div> <div> ۲-۷</div> <div> ۱-۷</div>	۰/۷۵												
۸	برای هریک از مشاغل زیر زیر،یک یک نمونه <u>کجروی</u> انجام شده بنویسید. <div> ۲-۸</div> <div> ۱- ۸</div>	۱												
ادامه سوالات در صفحه سوم														

بسمه تعالی

جشنواره طراحی سوال شبه نهایی - سال تحصیلی ۱۴۰۳-۱۴۰۲

سوالات آزمون درس: هویت اجتماعی		رشته: ریاضی و تجربی	ساعت شروع: ۹ صبح	مدت آزمون: ۷۵ دقیقه
نام و نام خانوادگی :		پایه: دوازدهم	تاریخ آزمون: ۱۴۰۳/۰۳/۰۹	تعداد صفحه: ۳
نام و نام خانوادگی طراح: یعقوب درستکار احمدی		شماره پرسنلی: ۳۱۴۹۰۰۲۹		اداره کل آموزش متوسطه اول و دوم نظری خراسان رضوی اداره آموزش و پرورش شهرستان تربت جام دبیرستان نمونه دولتی ابن سینا
ردیف	سوالات			نمره

۹	برای هریک از انواع تحرک اجتماعی زیر، یک مثال بنویسید. ۹-۱- تحرک صعودی: ۹-۲- تحرک افقی:	۱															
۱۰	جدول زیر را کامل کنید. <table border="1" data-bbox="334 709 1294 968"> <tr> <td>روش حکومت</td><td>بر اساس حقیقت و فضیلت</td><td>بر اساس خواست و میل حاکم</td></tr> <tr> <td>تعداد حاکمان</td><td></td><td></td></tr> <tr> <td>فرد</td><td>الف).....</td><td>استبدادی</td></tr> <tr> <td>ب).....</td><td>آریستوکراسی</td><td>پ).....</td></tr> <tr> <td>اکثریت</td><td>ت).....</td><td>دموکراسی</td></tr> </table>	روش حکومت	بر اساس حقیقت و فضیلت	بر اساس خواست و میل حاکم	تعداد حاکمان			فرد	الف).....	استبدادی	ب).....	آریستوکراسی	پ).....	اکثریت	ت).....	دموکراسی	۱
روش حکومت	بر اساس حقیقت و فضیلت	بر اساس خواست و میل حاکم															
تعداد حاکمان																	
فرد	الف).....	استبدادی															
ب).....	آریستوکراسی	پ).....															
اکثریت	ت).....	دموکراسی															
۱۱	در چه صورتی تحولات فرهنگی یک جامعه می تواند <u>مثبت</u> باشد؟ با ذکر یک مثال توضیح دهید	۱/۵															
۱۲	"از خود بیگانگی حقیقی" و "از خود بیگانگی تاریخی" چه تفاوتی بایکدیگر دارند	۱															
۱۳	<u>انقلاب اسلامی</u> ، چه تاثیری بر <u>اندیشمندان جهان غرب</u> داشته است؟	۱/۵															
۱۴	نظام سیاسی " <u>لیبرال دموکراسی</u> " و " <u>جمهوری اسلامی</u> " را بایکدیگر مقایسه کنید.	۱/۵															
۱۵	چرا <u>جوامع غربی</u> برای <u>افزایش جمعیت</u> خود به <u>سیاست های تشویقی</u> روی می آورند؟	۱/۵															
۱۶	مهم ترین پیامدهای " <u>اقتصاد مقاومتی</u> " در ایران را بنویسید. (دو مورد)	۱															
	موفق باشید	جمع نمرات															
		۲۰															

بسمه تعالی

جشنواره طراحی سوال شبه نهایی – سال تحصیلی ۱۴۰۳-۱۴۰۲

سوالات آزمون درس: هویت اجتماعی		رشته: ریاضی و تجربی	ساعت شروع: ۹ صبح	مدت آزمون: ۷۵ دقیقه
نام و نام خانوادگی :		پایه: دوازدهم	تاریخ آزمون: ۱۴۰۳/۰۳/۰۹	تعداد صفحه: ۳
نام و نام خانوادگی طراح: یعقوب درستکار احمدی		شماره پرسنلی: ۳۱۴۹۰۰۲۹	اداره کل آموزش متوسطه اول و دوم نظری خراسان رضوی اداره آموزش و پرورش شهرستان تربت جام دبیرستان نمونه دولتی ابن سینا	
ردیف	سوالات			نمره